

۱- با دوکارت عدد دورقمی بسازید .

با عدد های ۷ و ۸ و ۰ عدد دورقمی بسازید .

۶

۳

۲- بزرگ ترین عدد دورقمی است .

یکان عددی ۸ و دهگان آن ۲ می باشد آن عدد چیست ؟

یکان عددی ۳ و دهگان آن ۵ تا بیشتر می باشد آن عدد چیست ؟

۹ دسته ی ده تایی منهای دسته ده تایی می شود ۴ دسته ده تایی

۳ دسته ی ده تایی به اضافه ی ۴ دسته ده تایی می شود دسته ده تایی

$$۴۰ + ۱۰ + ۱۰ + ۵ =$$

$$۶۰ - ۲۰ =$$

۳- حاصل را بدست آورید .

$$۲۰ + ۳۰ + ۴ + ۱۰ + ۵ =$$

$$۵۰ - ۲۰ =$$

۴- الگو را ادامه بده

$$۱۰ - ۲۰ - ۳۰ -$$

$$۷ - ۱۴ -$$

$$۹۶ - ۹۵ - ۹۴ -$$

$$۵ - ۱۰ -$$

۵- در دریاچه ای ۵۴ ماهی قرمز و ۲۶ ماهی سیاه برای پرورش ریختند در این دریاچه چه تعداد ماهی قرمز

وسیاه ریختند ؟

۶- ۶۷ ستاره در آسمان بود . ۲۸ تا از آن ها زیر ابر بودند چند تا ستاره در آسمان مانده است ؟

۷- جواب سوال به صورت تقریبی به دست آورید


$$۵۶ \rightarrow \dots\dots$$

$$۸۶ \rightarrow \dots\dots$$

$$+ \quad ۲۴ \rightarrow \dots\dots$$

$$- \quad ۳۲ \rightarrow \dots\dots$$

۸- نام اشکال را بنویسید .



نام :

نام :

نام :

گوشه :

گوشه :

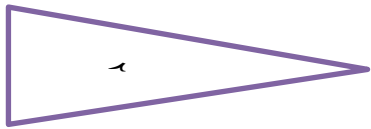
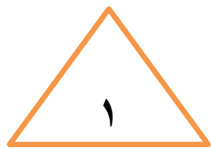

گوشه :

ضلع :

ضلع :

ضلع :

۹- تقارن شکل ها را بکش



۱۰- شباهت :

تفاوت :

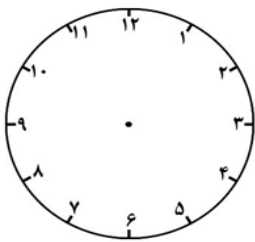
$$\begin{array}{r} ۴ \quad ۵ \\ + \\ ۲ \quad ۵ \\ \hline \end{array}$$

۴ ۶

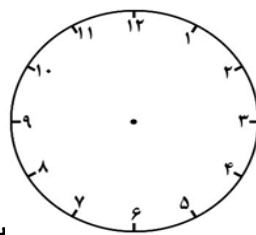
۱۱- جمع و تفریق را به صورت فرایندی حل کنید (با کمک شکل)

۲ ۵

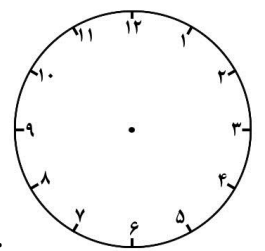
۱۲- ساعت را نشان بده



۸:۲۰



سه و ربع



چهار نیم

۱۳- تقارن دیگر را رنگ کنید .

خط تقارن خطی است

.....



خدا قوت گلم

